

KPSS 2024

GENEL KÜLTÜR

CANLI DERS

DÜNYADA BİR İLK!

CANLI ÇÖZÜM



Metamorfik
deneyimler

VIDEO ÇÖZÜM

Güncel Tüik
verileri

COĞRAFYA SORU BANKASI



Mehmet ZOR



Kemal İLKAY



Asım Sercan ERKAN



e-coğrafya yayınları
Dünya'yı keşfetmek için...

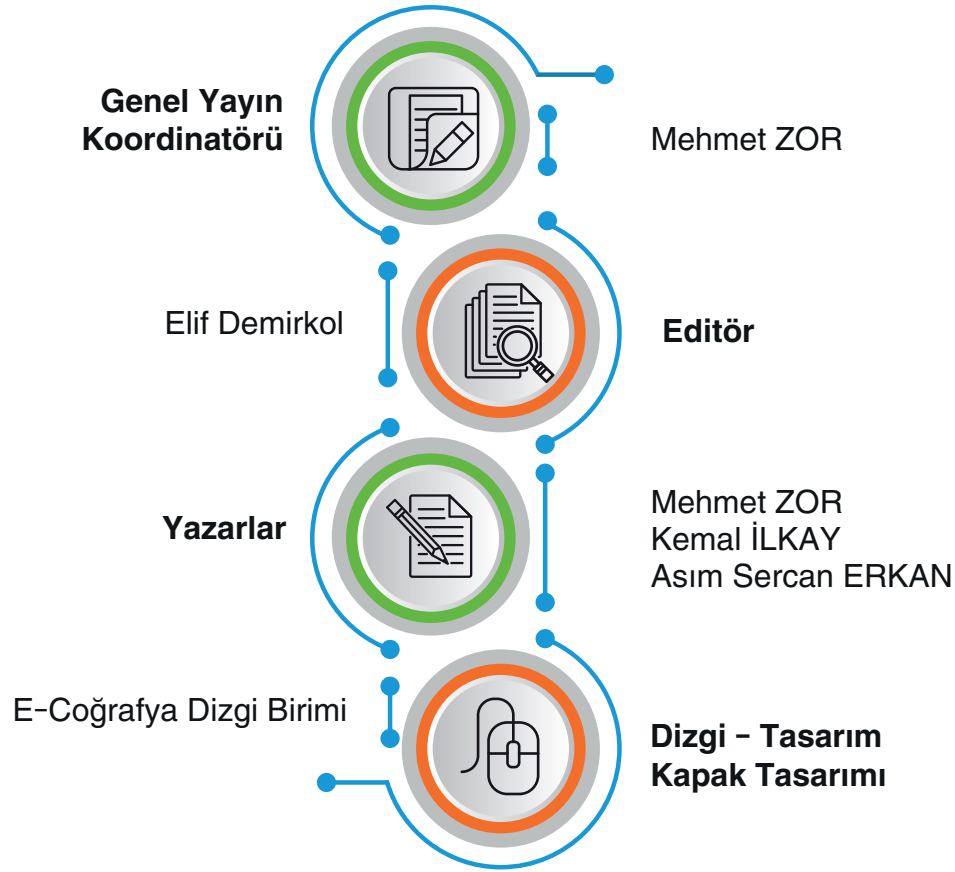


AKADEMİ
DENİZİ

Copyright ©

Bu kitabın her hakkı E-Coğrafya Yayınevi'ne aittir. Hangi amaçla olursa olsun, bu kitabın tamamının ya da bir kısmının, kitabı yayınlayan yayınevinin önceden izni olmaksızın elektronik, mekanik, fotokopi ya da herhangi bir kayıt sistemi ile çoğaltılması, yayınlanması ve depolanması yasaktır.

ISBN: 978-625-6389-09-0



İLETİŞİM

E-Coğrafya Yayınları İletişim
Ostim Mahallesi 1207. Sokak No: 3/C-D Ostim / Ankara
Santral Tel: 0 850 302 20 90 - Cep: 0 543 745 0 745

BASKI



www.instagram.com/gygk_e_cografya/

 E-Coğrafya

ÖN SÖZ

Sevgili Arkadaşlar,

E-Coğrafya Yayınları olarak KPSS sürecinde sizi hedefinize ulaştıracak bir çalışma yaptık. Bu çalışma yapılırken, ÖSYM'nin yaptığı sınavların sorularını ve MEB müfredatını titiz bir şekilde inceledik. Ayrıca beşeri ve ekonomik coğrafya konularından sorular hazırlanırken TÜİK'in güncel verilerinden yararlandık.

Bu sınavda Türkiye'nin Coğrafi Konumu konusundan 1 - 2 soru, Türkiye Fiziki Coğrafyası konularından yaklaşık 4 - 5 soru, Türkiye'nin Beşeri Coğrafyası konularından yaklaşık 3 - 4 soru ve Türkiye'nin Ekonomik Coğrafyası konularından ise 8 - 9 soru çıkmaktadır. Test sayılarımızı bu konuların ağırlıklık durumuna göre hazırladık.

Sorularımızı hazırlarken testlerimizi **Temel Düzey**, **ÖSYM Tipi** ve **İleri Düzey** olmak üzere üç gruba ayırdık. **Temel Düzey testler**, konu anlatımını çalışan her kişinin kolayca çözeceği sorulardan oluşmaktadır. Bu testleri 8 - 10 dakikada çözmeniz gerekmektedir. **ÖSYM Tipi** testler tam sınav kıvamı sorulardan oluşmaktadır. Bu testler konu eksikliği kalmayan kişilerin çözebileceği sorulardan oluşmaktadır. Bu testleri 11 - 13 dakikada çözmeniz gerekmektedir. **İleri Düzey testlere** gelindiğinde birçok arkadaşımız zorlanacaktır. Ancak ilerleyen dönemde soru çözüm tecrübeniz arttıkça eksiksiz çözeceğiniz sorulardan oluşmaktadır. Bu testleri 14 - 16 dakikada çözmeniz gerekmektedir.

Coğrafya sorularını kolayca çözmek için harita eksikliğini kapatmak gerekmektedir. Bu sınav emek yoğun bir sınav olduğu için Türkiye'nin bölge ve yörelerinin nereler olduğu ve özelliklerinin neler olduğunu da bilmek önemlidir. Bu sınavda çok küçük puan farkları bile sıralamayı önemli ölçüde değiştirdiği için eksik konu bırakmamak gerekmektedir.

Kitap, 78 konu testi ve 4 denemeden oluşmaktadır. Kağıt tasarrufu ve kitap fiyatının daha uygun olması için kitabımızın sorularını video çözümü ile yaptık. Her testin başlığındaki karekodu okutduğunuzda soruların video çözümüne ulaşabilirsiniz.

Kitabımızı alan tüm arkadaşlarımız, yıl içinde iki defa tekrar edilecek canlı derslerimize katılıp, sistem içinde kayıtlı önceki dersleri izleyebilecektir. Canlı derse katılmak için kitap kapağındaki şifreyi "www.soru.pro" sistemine girmeniz yeterlidir.

Umarız hayal ettiğiniz başarılı geleceğe ulaşmanızda küçük de olsa bir katkımız olur...

E-Coğrafya Ailesi



İÇİNDEKİLER

Türkiye'nin Coğrafi Konumu	6
Türkiye'nin Ana Yer Şekilleri.....	16
Türkiye'de Dış Kuvvetler.....	28
Türkiye'nin İklim Elemanları.....	40
Türkiye'nin İklim Tipleri.....	50
Türkiye'de Su, Toprak ve Bitki Varlığı	56
Türkiye'de Doğal Afetler ve Çevre Sorunları	66
Türkiye'de Nüfus ve Göç	74
Türkiye'de Yerleşmeler.....	90
Türkiye'nin Ekonomi Politikaları.....	98
Türkiye'de Tarım ve Hayvancılık	102
Türkiye'de Ormancılık ve Balıkçılık	124
Türkiye'de Madencilik ve Enerji Kaynakları	126
Türkiye'de Sanayi ve Ulaşım.....	138
Türkiye'de Ticaret ve Turizm	148
Bölge Sistematiği.....	158
Metamorfik Denemeler	162
Cevap Anahtarı.....	174

2010 - 2023 YILLARI ARASINDAKİ ÇIKMIŞ SORULAR

Üniteler	2010	2011	2012	2013	2014	2015	2016	2017	2018	2019	2020	2021	2022	2023
Türkiye'nin Coğrafi Konumu	1			1	1	1		1	1		1	2		
Türkiye'nin Sınırları ve Sınır Kapıları								1		1		1	1	
Türkiye'nin Jeopolitik Özellikleri			1											1
Türkiye'nin Jeolojik Özellikleri					1			1	2		1	1		
Türkiye'nin Ana Yer Şekilleri		2	1	1	2	2	1	1		2	1	1	1	3
Türkiye'de Dış Kuvvetler				1		1	2		1	1	1	2	1	1
Türkiye'de Yer Şekillerinin Etkisi	1							1						
Türkiye'nin İklim Elemanları	1	1	1		1	2	1		1					
Türkiye'nin İklim Tipleri											1			
Türkiye'nin Su Kaynakları								1	1	1		1	1	3
Türkiye'nin Toprak Özellikleri				1	1	1	1			1	1		1	
Türkiye'nin Bitki Varlığı							1	1	1	1	1	1		
Türkiye'de Çevre Sorunları	1	1	1	1										
Türkiye'de Doğal Afetler					1		1						1	
Türkiye'de Nüfusun Özellikleri	3	1	2	2	1	1	2	1	1	1	1	1	1	2
Türkiye'de Göçler		1		1	1				1	1	1	1	1	
Türkiye'de Yerleşmeler	1			1		2	1	1	1	1	1	1		1
Türkiye'nin Ekonomi Politikaları	3	2	1	1		1			1					
Türkiye'de Tarım	5	1	2	1	1	1		1	1	2	2	1	2	1
Türkiye'de Hayvancılık		1	1	1		1			1	1	1			1
Türkiye'de Ormancılık														1
Türkiye'de Balıkçılık					1				1		1			
Türkiye'de Madenler			1				1	1		1			1	1
Türkiye'de Enerji Kaynakları		1	1	2	1	1	2	3	1	2	1	2	2	
Türkiye'de Sanayi	1	1	1	1	3	1	2	1	1		1	1	1	
Türkiye'de Ulaşım		1	1		2	1		1	1		1	1	1	2
Türkiye'de Ticaret		1	2	1		1	1			1				
Türkiye'de Turizm	1	2	1	1	1		1	1	1	1	1	1	1	1
Bölge Sistematiği		2	1	1		1	1							



1. Aşağıdakilerden hangisi Türkiye'de mutlak konumun iklim üzerindeki etkisine örnek gösterilir?

- A) Trabzon kıyılarında yıllık yağış miktarının fazla olması
- B) Ardahan'da kış aylarında sıcaklık değerlerinin Samsun'dan daha düşük olması
- C) Şanlıurfa'da yaz kuraklığının Adana'dan şiddetli olması
- D) Fethiye'de denize girme süresinin Edremit'ten uzun olması
- E) Konya'da yıllık sıcaklık farklarının Adana'dan fazla olması

2. I. Güneş ışınlarında en fazla tutulmanın 21 Aralık'ta yaşanması
II. Cisimlerin gölge yönünün öğle vaktinde yıl boyunca kuzeye düşmesi
III. 21 Mart'ta gece – gündüz uzunluğunun eşit olması
IV. Akdeniz ikliminin geniş alanlarda etkili olması

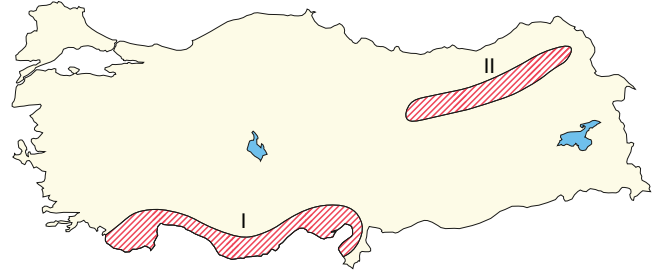
Yukarıda verilenlerden hangileri Türkiye'nin Kuzey Yarımküre'de yer aldığını kanıtlar?

- A) I ve II
- B) I ve III
- C) II ve III
- D) II ve IV
- E) III ve IV

3. Aşağıdakilerden hangisi üzerinde enlemin etkili olduğu söylenebilir?

- A) Karadeniz Dağları'na kuzeyden esen rüzgârların nemli hava getirmesi
- B) Anadolu'nun iç kısımlarında karasal iklim tiplerinin yayılış göstermesi
- C) Rize kıyılarında turuncuğil tarımının yapılabilmesi
- D) İç Anadolu'dan Doğu Anadolu'ya gidildikçe sıcaklığın düşmesi
- E) Akdeniz ikliminin etkili olduğu Antalya ve İzmir kıyılarında sıcaklık ortalamalarının farklı olması

4.



Haritadaki işaretli alanların göreceli konumları düşünüldüğünde bu alanlar aşağıdakilerden hangisi bakımından farklılık göstermez?

- A) Ormanın üst sınırı
- B) Yağış miktarı ve türü
- C) Öğle vaktinde gölge yönü
- D) Günlük sıcaklık farkları
- E) Çözülme ve türü

5. Aşağıda, Türkiye ile ilgili verilen olaylardan hangisi farklı bir nedenle açıklanır?

- A) Dört mevsim belirgin olarak yaşanır.
- B) Kısa mesafelerde iklim çeşitliliği fazladır.
- C) Güneş ışınları hiçbir zaman dik açıyla düşmez.
- D) Güneyden kuzeye doğru sıcaklık düşer.
- E) 2. ve 3. saat dilimleri arasında yer alır.

6.

- I. Kuzey-güney yönünde ulaşımın güçlüğü sağlanması
 - II. Kıyı ile iç kesimler arasında yağış farklılığının görülmesi
 - III. Dağların güneye bakan yamaçlarının kuzeye bakan yamaçlarından daha sıcak olması
 - IV. Temmuz ve ağustos aylarında sıcaklıkların yükselmesi
- Yukarıdakilerden hangileri Türkiye'nin özel konumu ile ilgilidir?

- A) I ve II
- B) I ve III
- C) II ve III
- D) II ve IV
- E) III ve IV



TEMEL DÜZEY



Bu testi 8 - 10 dakikada çözünüz.

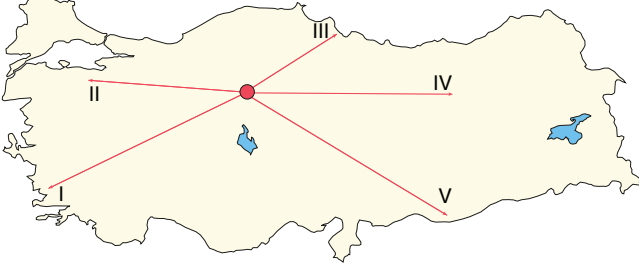
Karabod

7. Aşağıdaki tabloda Antalya ve Burdur şehir merkezlerinin coğrafi koordinatları verilmiştir.

Kent	Paralel	Meridyen
Antalya	37° K	30° D
Burdur	38° K	30° D

Buna göre, Antalya ve Burdur'da aşağıdakilerden hangisinin ortak olması beklenir?

- A) Güneş ışınlarının geliş açısı
B) Yer çekimi
C) Gündüz uzunluğu
D) Yerel saat
E) Dünya'nın çizgisel hızı
8. Aşağıdaki haritada 21 Aralık tarihinde, Ankara'dan yola çıkan beş gözlemcinin ulaştığı yerler gösterilmiştir.



Ulaşılan merkezlerin hangisinde gündüz süresi daha uzun ve yerel saat daha ileridir?

- A) I B) II C) III D) IV E) V
9. Türkiye'nin bir yöresine ait fiziki haritada kahverengi ve tonlarının fazlaca kullanıldığı görülmüştür. Bu yörenin göreceli konumu için aşağıdakilerden hangisi söylenemez?
- A) Yer şekilleri engebeldir.
B) Akarsular menderesler çizerek akar.
C) Kışın kar yağışı görülür.
D) Yıllık sıcaklık farkları fazladır.
E) Yol yapım maliyetleri yüksektir.

10. Bir Türk firması ürettiği ürünleri Fransa'ya ihraç etmektedir. Bu firma ürünlerini kara yoluyla gönderdiğinde, aşağıdaki sınır kapılarından hangisini kullanması beklenir?

- A) Sarp B) Esendere C) Kapıkule
D) Türkgözü E) Habur

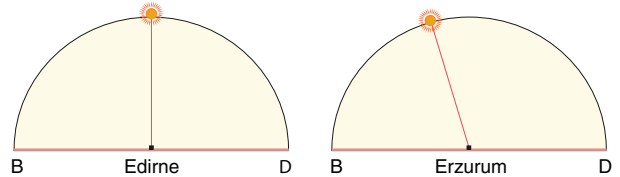
11. Türkiye'de,

- I. Dört mevsimin belirgin olarak yaşanması
II. Aralık ayında güneyinden kuzeyine doğru gidildikçe gece süresinin uzaması
III. Güneş ışınlarının yıl içinde dik açıyla gelmemesi
IV. Tüm şehirlerde tam öğle vakti gölgenin daima kuzeye düşmesi

özelliklerinden hangileri Kuzey Yarım Küre'de yer aldığı kanıtlanır?

- A) I ve II B) I ve III C) II ve III
D) II ve IV E) III ve IV

12. Aşağıda, aynı anda Edirne ve Erzurum'da Güneş'in konumu gösterilmiştir.



Bu iki kent ile ilgili aşağıdakilerden hangisine ulaşamaz?

- A) Erzurum'un yerel saati Edirne'den ileridir.
B) Edirne'de yerel saat 12.00'dir.
C) Erzurum'da Güneş daha önce batar.
D) Edirne Başlangıç Meridyeni'ne daha yakındır.
E) Her iki merkezde de çizgisel hız aynıdır.

E-Coğrafya Yayınları

Çözülen süre:

Doğru:

Yanlış:

Boş:

Net:



1. Türkiye'nin kuzeyi ile güneyi arasında 6 paralel fark vardır. Aşağıdakilerden hangisi bu farkın ortaya çıkarttığı sonuçlardan biri değildir?
- A) Antalya'dan Zonguldak'a doğru gidildikçe sıcaklık değerlerinin düşmesi
B) Sinop'ta sıcaklık farkının Konya'dan az olması
C) Sinop'taki gece gündüz farkının Hatay'dan fazla olması
D) Aynı gün içinde Mardin'de güneş ışınlarını geliş açısının Trabzon'dan yüksek olması
E) Mersin'in çizisel hızının Kastamonu'dan yüksek olması

2.



Yukarıdaki haritada, konumları gösterilen merkezlerle ilgili olarak aşağıdaki yargılardan hangisine ulaşamaz?

- A) Adana'da gece-gündüz süre farkı Sinop'tan daha fazladır.
B) Adana, yıl boyunca güneş ışınlarını daha dike yakın açıyla alır.
C) Öğle vakti cisimlerin gölge boyu Sinop'ta daha uzundur.
D) Adana'da çizgisel hız daha fazladır.
E) Haziran ayındaki gece süresi Sinop'ta daha kısadır.

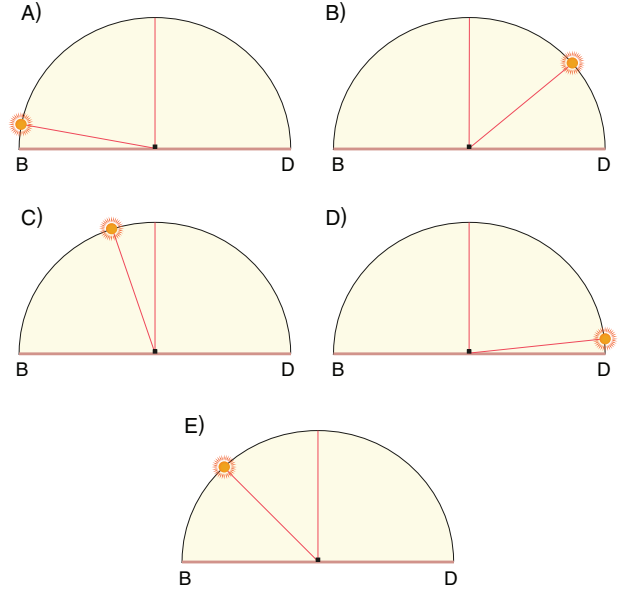
3. Türkiye'den kaynağını alıp başka ülkelere akan bazı akarsular uluslararası soruna yol açar.

- I. Kura
II. Çoruh
III. Fırat
IV. Dicle

Yukarıda verilen akarsulardan hangileri böyle bir soruna neden olur?

- A) I ve II
B) I ve III
C) II ve III
D) II ve IV
E) III ve IV

4. Londra - Greenwich'te tam öğle vakti yaşandığı anda, İngiltere'de Güneş'in ufuk üzerindeki konumu aşağıdakilerden hangisi gibidir?



5. Aşağıda verilen ülke ve bu ülkeye açılan sınır kapısı eşleştirmelerinden hangisi doğru değildir?

- A) İran - Kapıköy
B) Suriye - Zeytinalı
C) Ermenistan - Türkgözü
D) Bulgaristan - Kapıkule
E) Yunanistan - Pazarkule

6. I. Fethiye Körfezi'nin yıllık ortalama sıcaklığının İzmit Körfezi'nden daha yüksek olması
II. Kıyı bölgelerinin iç bölgelerden daha çok yağış alması
III. İzmir'de buğday hasadının Konya'dan daha önce yapılması
IV. Erciyes Dağı'nın güney yamaçlarının kuzey yamaçlarından daha sıcak olması

Yukarıdaki özelliklerden hangileri Türkiye'nin göreceli konumuna bağlı olarak yaşanır?

- A) I ve II
B) I ve IV
C) II ve III
D) II ve IV
E) III ve IV



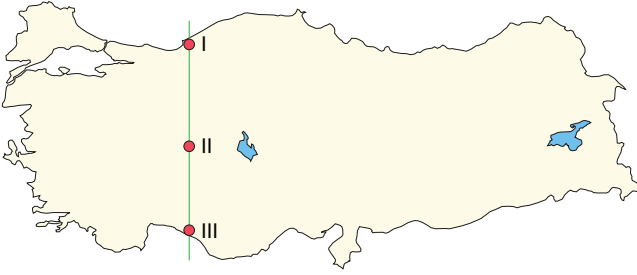
Bu testi 11 - 13 dakikada çözünüz.

Karabod

7. 23 Eylül günü Türkiye’de aşağıda verilenlerden hangisinin yaşandığı **söylenemez**?

- A) 40° Kuzey enleminde Ankara’ya tam öğle vaktinde güneş ışınları 50° lik açıyla düşer.
- B) 36° Kuzey enlemindeki Hatay’da Güneş doğduktan 12 saat sonra batar.
- C) Aynı boylam üzerindeki Rize ve Bingöl’de Güneş aynı anda doğar, aynı anda batar.
- D) Türkiye’de sonbahar mevsimi başlar.
- E) Antalya’dan Zonguldak’a doğru gece süresi uzar.

8.



Yukarıdaki haritada konumları gösterilen üç merkezin aşağıdaki özelliklerden hangisi yönüyle ortak oldukları söylenir?

- A) Öğle vakti
- B) Başlangıç Meridyeni’ne uzaklık
- C) Öğle vakti güneş ışınlarının geliş açısı
- D) Gece ile gündüz arasındaki süre farkı
- E) 21 Aralık’taki gündüz uzunluğu

9. Türkiye’nin Kuzey Yarım Küre’de bulunduğunu kanıtlamada aşağıda verilenlerden hangisi **kullanılmaz**?

- A) 21 Haziran tarihinde en uzun gündüzün yaşanması
- B) 21 Aralık tarihinde cisimlerin gölge boylarının en uzun olması
- C) Güney sektörlü rüzgârların sıcaklığı yükseltmesi
- D) Batı rüzgârlarının egemen olması
- E) Dağların güney yamaçlarının kuzey yamaçlarından sıcak olması

10. Antalya’dan Zonguldak’a doğru gidildikçe,

- Çizgisel hızın azalması
- Gölge boyunun uzaması
- Sıcaklığın azalması
- Gece-gündüz sıcaklık farkının artması
- Deniz suyu tuzluluğunun azalması

durumlarının ortaya çıkmasında aşağıdakilerden hangisi etkili olmuştur?

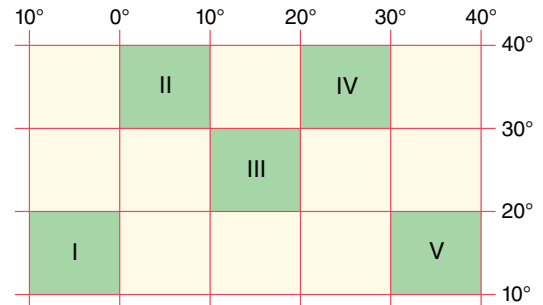
- A) Yükselti
- B) Enlem
- C) Bakı
- D) Boylam
- E) Dağların konumu

11. Aşağıda verilen kent çiftlerinden hangileri arasında yerel saat farkı **daha azdır**?

- A) Samsun – Adana
- B) Iğdır – Ankara
- C) Muğla – Diyarbakır
- D) Van – Kayseri
- E) Kastamonu – Trabzon

E-Coğrafya Yayınları

12.



Yukarıda, taralı olarak gösterilen alanların hangisinde Türkiye topraklarının bir kısmı yer alır?

- A) I
- B) II
- C) III
- D) IV
- E) V

Çözülen süre:

Doğru:

Yanlış:

Boş:

Net:



1.



Yukarıdaki kentler için aşağıdakilerden hangisi söylenemez?

- A) Gece ile gündüz arasındaki süre farkının en fazla olduğu kent Ordu'dur.
- B) Adana'da alacakaranlık süresi Ordu'dan daha uzundur.
- C) Güneş'in en son battığı kent Uşak'tır.
- D) Adana'dan Van'a doğru çizgisel hız azalır.
- E) Adana'nın yerel saati Uşak'tan daha ileridir.

2. Türkiye'nin aşağıdaki özelliklerden hangisinin göreceli konumdan kaynaklandığı söylenemez?

- A) Kuzey-güney yönlü ulaşımda geçitlerin kullanılması
- B) Bölgeler arasında yıllık sıcaklık ortalamalarının farklı olması
- C) Haziran-temmuz aylarında sıcaklık ortalamalarının yüksek olması
- D) Aynı tür tarım ürünlerinin olgunlaşma süresinin batıdan doğuya doğru uzaması
- E) Karadeniz kıyılarında orografik yağışların yaygın olması

3. Türkiye ile İran arasındaki sınır hattı İğdır-Dilucu'ndan başlar ve Hakkâri-Şemdinli'ye kadar devam eder. Bu ülkeyle aramızda üç tane önemli sınır kapısı yer alır.

Aşağıdakilerden hangisi bu ülkeye açılan sınır kapılarından biridir?

- A) Sarp
- B) Dilucu
- C) Pazarkule
- D) Esendere
- E) Mürşitpınar

4. Türkiye'nin coğrafi koordinatları düşünüldüğünde, aşağıda verilen merkezlerin hangisinden kuzeybatıya doğru gidildiğinde Türkiye'ye yaklaşılmış olur?

- A) 20° D
10° K
- B) 50° B
40° K
- C) 26° D
15° G
- D) 0°
25° K
- E) 65° D
20° G

5. Türkiye'de yıl boyunca tam öğle vakti cisimlerin gölgesi kuzeye düşer.

Türkiye'de yaşanan aşağıdaki durumlardan hangisi yukarıdaki olayla aynı nedene bağlı olarak ortaya çıkar?

- A) Dağların güneye bakan yamaçlarının kuzeye bakan yamaçtan daha sıcak olması
- B) Çizgisel hızın güneyden kuzeye doğru azalması
- C) Dört mevsim özelliklerinin yaşanması
- D) Batıdan doğuya doğru sıcaklık ortalamasının düşmesi
- E) Batı rüzgârlarının etkili olması

6. Türkiye'de gecelerin gündüzlerden uzun olmaya başladığı tarih aşağıdakilerden hangisidir?

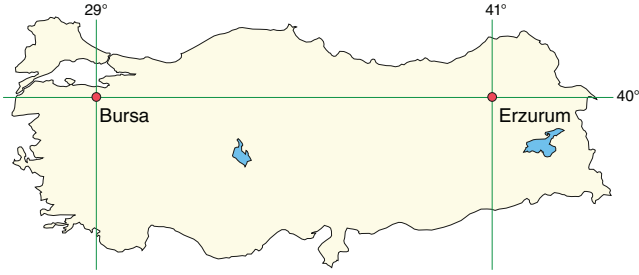
- A) 23 Eylül
- B) 21 Aralık
- C) 3 Ocak
- D) 21 Mart
- E) 21 Haziran



Bu testi 11 - 13 dakikada çözüünüz.

Karabod

7.



Yukarıdaki haritada gösterilen Bursa ve Erzurum kentleri için aşağıdakilerden hangisi söylenemez?

- A) Her iki kentte de gündüz uzunluğu yıl boyunca aynıdır.
B) Her iki kentte de öğle saatinde cisimlerin gölge uzunluğu aynıdır.
C) Her iki kentin Ekvator'a uzaklığı eşittir.
D) Erzurum'un yerel saati Bursa'dan 48 dakika ileridir.
E) Her iki kentin Başlangıç Meridyeni'ne uzaklığı eşittir.

8. Dönenceler ile kutup daireleri arasında orta enlemler denir. Türkiye toprakları orta enlemlerde yer alır.

- I. Cephe yağışlarının görülmesi
II. Güney sektörden gelen rüzgârların sıcaklığı yükseltmesi
III. Batı rüzgârları sisteminde yer alması
IV. Güneyinden kuzeyinde doğru gidildikçe gölge boyunun uzaması

Yukarıdakilerden hangileri Türkiye'nin orta enlemlerde yer aldığına kanıt olarak gösterilemez?

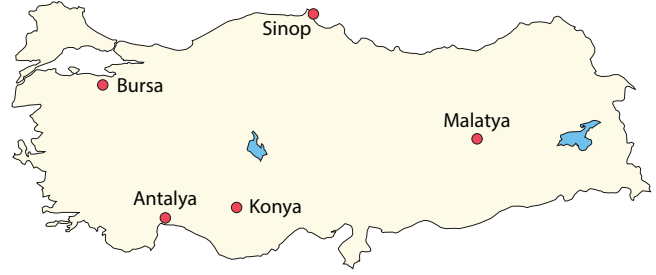
- A) I ve II B) I ve III C) II ve III
D) II ve IV E) III ve IV

9. İstanbul'da yaşayan Sena 10 Temmuz tarihinde yaz tatili için Alanya'ya gitmiş ve burada bir hafta kalmıştır.

Sena'nın tatil süresinde aşağıdakilerden hangisini gözlemlediği söylenemez?

- A) Yerel saatin daha ileri olduğunu
B) Gölge boyunun daha uzun olduğunu
C) Çizgisel hızın daha fazla olduğunu
D) Gece ile gündüz arasındaki süre farkının daha az olduğunu
E) Gece süresinin daha uzun olduğunu

10.



21 Haziran tarihinde verilen merkezlerin hangisinde Güneş'in doğuşundan batışına kadar geçen süre daha uzundur?

- A) Bursa B) Antalya C) Konya
D) Sinop E) Malatya

11. Türkiye 26° D - 45° D boylamları arasında yer alır.

Aşağıda verilenlerden hangisi bu durumun sonuçlarından biri değildir?

- A) Başlangıç Meridyeni'nin doğusunda yer alması
B) Doğusu ile batısı arasında 19 meridyen fark olması
C) 2. ve 3. saat dilimleri arasında yer alması
D) Aynı anda tek ortak saatin kullanılması
E) Batıdan doğuya doğru sıcaklık değerlerinin düşmesi

E-Coğrafya Yayınları

12. Türkiye'de ortak saat olarak İğdir kentinin saati kullanılır.



Buna göre, haritada işaretli illerin hangisinde yerel saat ile ortak saat arasındaki fark daha fazla olur?

- A) Erzurum B) Bolu C) Aksaray
D) Denizli E) Hakkâri

Çözülen süre:

Doğru:

Yanlış:

Boş:

Net:



1. Türkiye'de gecelerin uzadığı, ancak gecelerin gündüzlerden **daha kısa olduğu tarih aşağıdaki dönemlerin hangisinde yaşanır?**

- A) 25 Ağustos – 10 Eylül
- B) 25 Ekim – 10 Kasım
- C) 21 Aralık – 5 Ocak
- D) 20 Şubat – 7 Mart
- E) 25 Mayıs – 10 Haziran

2. Aşağıdaki haritada dört kente ait bazı özellikler verilmiştir.



- I. Hakkâri'de tarımsal nüfus yoğunluğu Türkiye ortalamasının üzerindedir.
- II. Edirne'nin yerel saati verilen diğer merkezlerden daha geridir.
- III. Antalya'nın yıllık yağış miktarı diğer kentlerden fazladır.
- IV. Hatay'da gece – gündüz süre farkı yıl boyunca diğer kentlerden daha azdır.

Yukarıda verilen kentlere ait özelliklerden hangileri bu kentlerin özel konumlarıyla ilgilidir?

- A) I ve II
- B) I ve III
- C) II ve III
- D) II ve IV
- E) III ve IV

3. Aşağıda verilen özelliklerden hangisinin Türkiye'nin jeopolitiği üzerindeki etkisi **daha azdır?**

- A) İstanbul ve Çanakkale boğazları gibi önemli su yollarına sahip olması
- B) Hazar Havzası enerji kaynaklarının Avrupa'ya geçiş güzergâhı üzerinde yer alması
- C) Dicle ve Fırat gibi zengin akarsuların kaynak alanı olması
- D) Asya ile Avrupa arasındaki önemli ticaret yollarına ev sahipliği yapması
- E) Orta kuşakta yer alıp, ılıman iklim koşullarının etkisinde olması

4.



İzmit ile Burdur'un

- I. Başlangıç Meridyeni'ne olan uzaklık
- II. Yerel saat
- III. Gün içinde gölge boyunun en kısa olduğu an
- IV. Yıl boyunca Güneş'in doğuş anı

özelliklerinden hangileri aynıdır?

- A) I ve II
- B) I ve III
- C) II ve III
- D) II ve IV
- E) III ve IV

5.

İzmir, Konya ve Van kentlerinin çizgisel hızları ve öğle vakti güneş ışınlarını alma açıları birbirine yakındır.

Buna göre, bu kentlerin aşağıdaki özelliklerinden hangisi birbirine benzerdir?

- A) Bağıl nem miktarları
- B) İklim özellikleri
- C) Toprak ve bitki örtüsü türleri
- D) Ekvator'a olan uzaklıkları
- E) Ortalama yükseklikleri

6.

- I. Zonguldak – Rize arasında aralık ayında en uzun gece süresinin yaşanması
- II. Konya – Sivas arasındaki bölgelerde ilkbahar ve yaz başlarında yükselim yağışının görülmesi
- III. İzmir – İskenderun arasında kış aylarında cephe yağışlarının görülmesi
- IV. Yozgat – Ağrı arasındaki tarım arazilerinde şeker pancarı tarımı yapılması

Yukarıda verilen durumlardan hangilerinin ortaya çıkmasında Türkiye'nin göreceli konumu etkili olmuştur?

- A) I ve II
- B) I ve III
- C) II ve III
- D) II ve IV
- E) III ve IV

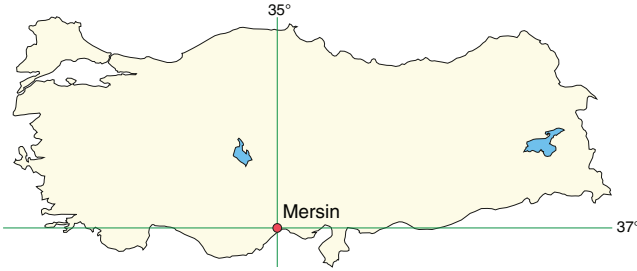


7. Dağlar ya da nehirler ülkeler arasında doğal sınırlar oluşturur. Türkiye'nin bazı ülkelerle sınırları bu şekilde doğal sınırlardan oluşmaktadır.

Buna göre, Rezve (Mutlu) Deresi aşağıdaki ülkelerden hangisi ile Türkiye arasındaki bu çizgiyi belirler?

- A) Bulgaristan B) Gürcistan C) İran
D) Yunanistan E) Ermenistan

8.



Haritada coğrafi koordinatları verilen Mersin'de yatay düzleme dik olarak yerleştirilen bir cismin gölge boyunun hiçbir zaman sıfır olmamasının nedeni aşağıdakilerden hangisidir?

- A) Akdeniz kıyısında yer almasının
B) Kuzey Yarım Küre'de yer almasının
C) Yengeç Dönencesi'nin kuzeyinde bulunmasının
D) Başlangıç Meridyeni'nin doğusunda bulunmasının
E) Deniz seviyesinde yer almasının

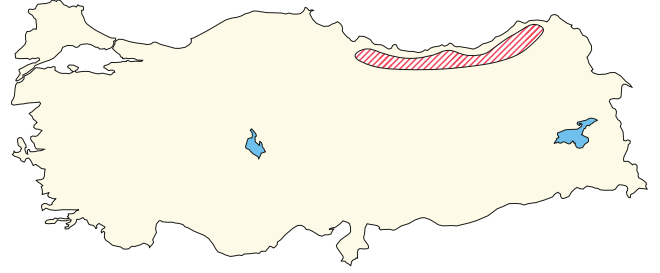
9. Türkiye'de,

- Batı rüzgârlarının etkisindedir.
- Dört mevsim yaşanır.
- Cephe yağışları görülür.
- Ilıman iklimler görülür.

Bu özelliklerin ortaya çıkmasında aşağıdakilerden hangisinin etkisi daha fazladır?

- A) İki yarımada oluşması
B) Asya, Avrupa ve Afrika'nın birbirine yaklaştığı konumda yer alması
C) Kuzey Yarım Küre'de yer alması
D) Oldukça yüksek ve engebeli olması
E) Orta kuşakta yer alması

10. Aşağıdaki haritada Türkiye'nin bir dağlık kütlesi taralı olarak gösterilmiştir.



Bu dağlık kütleyle ilgili aşağıdaki özelliklerden hangisi bakı etkisiyle açıklanır?

- A) Kuzey yamaçlarında yağış miktarının daha fazla olması
B) Güney yamaçlarda meşe gibi sıcak seven türlerin hâkim olması
C) Yüksek kesimlerde kalıcı karlara rastlanması
D) Kuzey yamaçlarda kar - buz rejimli akarsuların bulunması
E) Güney yamaçta nüfus yoğunluğunun daha düşük olması

11. Türkiye Avrupa'da 2, Asya'da ise 6 ülkeyle sınır komşusudur. **Aşağıdaki illerden hangisi bu ülkelerin herhangi biri ile sınıra sahip değildir?**

- A) Hatay B) Kırıkkale C) Artvin
D) Mardin E) Iğdır

E-Coğrafya Yayınları

12. Türkiye'de güneşin doğuş ve batış saatleri yaz ile kış mevsimlerinde değişiklik gösterir. Aydınlanma süresi kış aylarında daha kısa iken yaz aylarında daha uzundur.

Türkiye'de gece ile gündüz sürelerinin bu şekilde değişmesine neden olan faktör aşağıdakilerden hangisidir?

- A) Türkiye'nin ortalama süresinin fazla olması
B) Dağların güney yamaçlarının bakı etkisinde kalması
C) Türkiye'nin eski dünya karalarının merkezinde yer alması
D) Türkiye'nin mutlak konumu
E) Türkiye'nin yüz ölçümünün geniş olması

Çözülen süre:

Doğru:

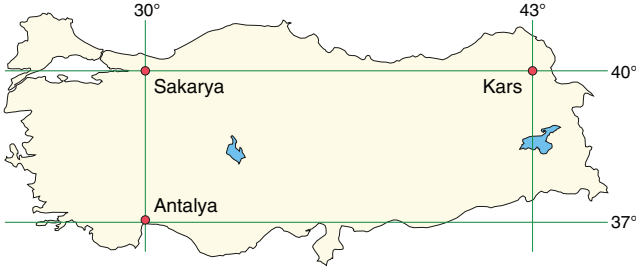
Yanlış:

Boş:

Net:



1. Aşağıdaki haritada Sakarya, Kars ve Antalya'nın coğrafi koordinatları verilmiştir.



Yalnızca haritadaki bilgilerden yararlanarak aşağıdaki yargılardan hangisine ulaşamaz?

- A) 21 Aralık'ta Sakarya'da gündüz süresi Kars'tan uzundur.
 B) Verilen kentlerin hepsinde 21 Mart'ta Güneş doğduktan 12 saat sonra batar.
 C) En uzun gündüzle en kısa gündüz süresi arasındaki farkın en az olduğu yer Antalya'dır.
 D) Kars'ın yerel saati Antalya'dan daha ileridir.
 E) 21 Haziran'da Sakarya'daki gündüz süresi Antalya'dakinden daha uzundur.

2. Hatay'dan aynı boylam üzerindeki Samsun'a giden Attila, Güneş'in daha erken battığını gözlemlemiştir.

Buna göre, Attila bu yolculuğunu aşağıdaki ayların hangisinde yapmıştır?

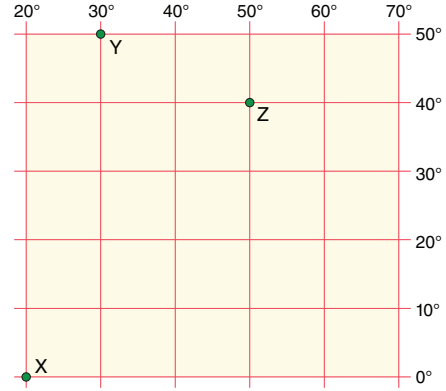
- A) Nisan B) Haziran C) Temmuz
 D) Ağustos E) Ekim

3. Yer eksenini ile ekliptik düzlem birbirine dik olmayıp aralarında belirli bir eğiklik söz konusudur. Bu durum pek çok özelliğin değişmesine neden olmaktadır.

Buna göre, aşağıdakilerden hangisi yer ekseninin eğik olmasının sonuçlarından biri değildir?

- A) 21 Haziran'da Türkiye'nin kuzeyinde Güneş'in erken doğup, geç batması
 B) Ekinoks tarihlerinde gece-gündüz süresinin 12'şer saat olması
 C) 21 Aralık'ta Türkiye'de gecelerin gündüzlerden uzun olması
 D) Türkiye'nin güneş ışınlarını 21 Haziran'da büyük açıyla 21 Aralık'ta ise küçük açıyla alması
 E) 21 Haziran'da Türkiye'de gündüz süresinin gece süresinden uzun olması

4. Antalya, yaklaşık olarak 37° Kuzey enlemi ile 30° Doğu boylamı üzerinde yer almaktadır.



Antalya'nın coğrafi koordinatları göz önüne alındığında, yukarıda gösterilen X, Y ve Z noktalarından kalkan uçakların Antalya'ya ulaşabilmeleri için hangi yöne hareket etmeleri gerekmektedir?

	X	Y	Z
A)	Kuzey	Güneybatı	Batı
B)	Kuzeybatı	Güneydoğu	Güneybatı
C)	Kuzeydoğu	Güney	Güneybatı
D)	Kuzey	Güney	Güneydoğu
E)	Kuzeydoğu	Güneydoğu	Kuzeybatı

5. Türkiye, jeopolitik konumundan kaynaklanan bazı sorunlar yaşamaktadır.

Aşağıdaki sorunlardan hangisi Türkiye'yi doğrudan ilgilendirmez?

- A) Kıta sahanlığı sorunu
 B) Kıbrıs sorunu
 C) Suriyeli mülteci sorunu
 D) Filistin Sorunu
 E) Ermeni sorunu

6. I. İran
 II. Gürcistan
 III. Bulgaristan
 IV. Irak

Türkiye yukarıdaki ülkelerden hangileriyle demir yolu sınırı kapsına sahiptir?

- A) I ve II B) I ve III C) II ve III
 D) II ve IV E) III ve IV



7. Aşağıda bazı kentlerin enlem ya da boylam dereceleri gösterilmiştir.



Bu kentlerle ilgili aşağıda verilen bilgilerden hangisi hatalıdır?

- A) Sakarya ve Erzurum'da aynı uzunluktaki cismin yıl boyunca öğle vakti gölge boyu aynıdır.
B) Yıl boyunca Sakarya ve Burdur'da yerel saat aynıdır.
C) Yıl boyunca Rize ve Bingöl'de Güneş aynı anda doğar, aynı anda batar.
D) Yıl boyunca Bingöl'ün yerel saati, Antalya'dan daha ileridir.
E) Antalya'da çizgisel hız, Burdur'dan daha fazladır.

8. Hatay 36° Kuzey paraleli ve 36° Doğu meridyeni üzerinde yer alır.

Güneş ışınlarının Ekvator'da yatay zemine dik düştüğü bir günde, Hatay'da aşağıda verilen olaylardan hangisinin kesin olarak yaşandığı söylenemez?

- A) Bir cismin gölgesi boyundan daha kısa olur.
B) Güneş doğduktan 6 saat sonra öğle vakti yaşanır.
C) Öğle vakti cisimlerin gölgesi kuzeye düşer.
D) İlkbahar mevsimi başlar.
E) Gündüz uzunluğu 12 saat olur.

9. Türkiye'nin jeopolitik önemi üzerinde aşağıdakilerden hangisinin etkisi daha azdır?

- A) Avrasya Tüneli ve Marmaray'ın inşa edilmesi
B) Hazar enerji havzasına yakınlık
C) Avrupa Birliği'ne komşu olunması
D) İstanbul ve Çanakkale boğazlarının bulunması
E) Eski dünya karalarının merkezinde olunması

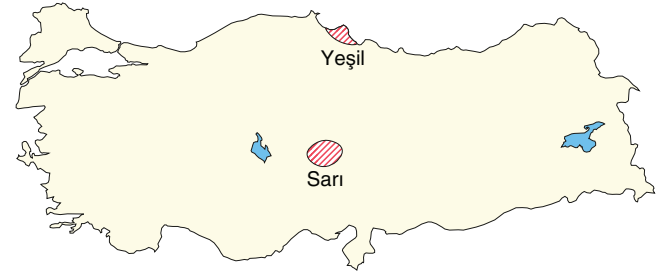
10. Aşağıda, Türkiye'de bulunan üç kentin enlem ve boylam dereceleri verilmiştir.

Balıkesir	39° K – 28° D
Yozgat	39° K – 34° D
Niğde	37° K – 34° D

Buna göre, bu üç kent ile ilgili olarak aşağıdakilerden hangisi söylenemez?

- A) Balıkesir ve Yozgat'ta öğle vakti güneş ışınlarının geliş açısı eşittir.
B) Niğde'de çizgisel hız Yozgat'tan daha fazladır.
C) Balıkesir ile Niğde arasında 24 dakikalık yerel saat farkı vardır.
D) Yozgat ve Niğde'de yıl boyunca yerel saat aynıdır.
E) 21 Aralık'ta en uzun gece Niğde'de yaşanır.

11. Aşağıdaki Türkiye haritasında, yaklaşık aynı boylam üzerinde olan iki ovanın farklı renklerle gösterildiği görülmektedir.



Bu durum aşağıdakilerden hangisiyle açıklanabilir?

- A) Kıyıya olan uzaklık durumuyla
B) Ortalama yükselti farkıyla
C) Yüz ölçümü genişliğiyle
D) Bitki örtüsü farkıyla
E) Enlem derecesi farkıyla

12. Tatilini geçirmek üzere Türkiye'ye gelen bir turist, Türkiye'de kaldığı dönemde gece süresinin gittikçe uzamakla birlikte gündüz süresine göre daha kısa olduğunu fark etmiştir.

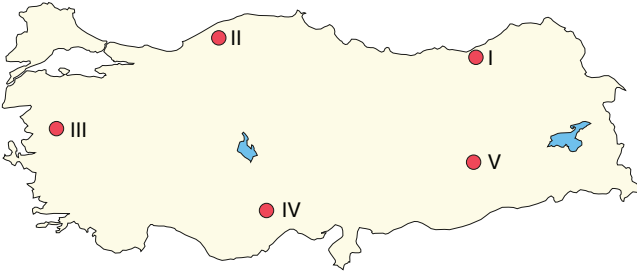
Buna göre, turistin hangi tarihler arasında Türkiye'de olduğu söylenebilir?

- A) 11 Şubat – 21 Şubat
B) 11 Mart – 21 Mart
C) 11 Mayıs – 21 Mayıs
D) 11 Haziran – 21 Haziran
E) 11 Temmuz – 21 Temmuz





1. Dağlar; volkanizma, kırılma ve kıvrılma olayları sonucunda oluşur.



Yukarıdaki haritada gösterilen alanların hangisinde kırılma olayına bağlı olarak oluşan dağlar bulunur?

- A) I B) II C) III D) IV E) V

2. Türkiye'de volkanizmaya bağlı olarak oluşan yer şekillerine yaygın olarak rastlanır.

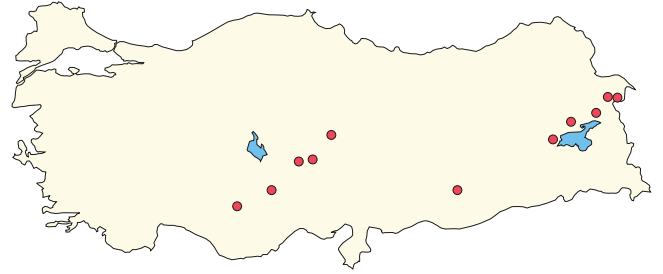
Aşağıdakilerden hangisi bunlardan biri değildir?

- A) Meke Gölü
B) Biga Yöresi
C) Erzurum-Kars Platosu
D) Manisa-Kula Yöresi
E) Erciyes Dağı

3. Aşağıdakilerden hangisi Türkiye'de Dördüncü Jeolojik Zaman'da (Kuvaterner) yaşanan olaylardan biri değildir?

- A) Anadolu'nun volkanik dağlarının faaliyete geçmesi
B) Yüksek dağlık alanların kalın buz örtüleriyle kaplanması
C) Delta ovalarının oluşumu
D) Ege'de linyit yataklarının oluşması
E) Anadolu'nun epirojenezin etkisiyle toptan yükselmesi

4. Aşağıda, Türkiye'deki volkanik dağların dağılışı gösterilmiştir.



Volkanik dağların bir hat boyunca uzanmasının temel nedeni aşağıdakilerden hangisidir?

- A) Fay hatları üzerinde bulunması
B) Orojenik dağların doğu-batı yönünde uzanması
C) Levha sınırında yer alması
D) Sertleşmiş araziler üzerinde bulunması
E) Deprem kuşağı üzerinde bulunması

5. • Tuz Gölü'nün güneyinde yer alır.
• Yatay yapılı platolar arasındadır.
• Üzerinde karstik şekillere yaygın olarak rastlanır.

Yukarıda bazı özellikleri verilen plato aşağıdakilerden hangisidir?

- A) Teke B) Ardahan C) Bozok
D) Cihanbeyli E) Obruk

6. Karadeniz kıyıları, Türkiye'nin engebeli arazi yapısına sahip yerlerinden biridir.

Aşağıdakilerden hangisi bu durumun bir sonucu olarak gösterilemez?

- A) Kıyı şeridi boyunca Karadeniz ikliminin etkili olması
B) Dağınık yerleşme özelliklerinin görülmesi
C) Bazı alanlarında demir yolu ulaşımının gelişmemesi
D) Akarsuların akış hızlarının yüksek olması
E) Yayla turizmi ve rafting sporları için potansiyelinin yüksek olması



TEMELE DÜZEY

7. Ovalar oluşumlarına göre; delta ovaları, karstik ya da tektonik ova olarak üçe ayrılır.



Buna göre, yukarıdaki haritada verilen ovalardan hangisi karstik ovalardan biridir?

- A) Bursa Ovası B) Elmalı Ovası
C) Bafra Ovası D) Kayseri Ovası
E) Amik Ovası
8. Akarsular tarafından derince yarılmamış, verimli topraklarla kaplı düzlüklere ova denir. Ovalar; tektonik, karstik ya da delta gibi farklı yapıya sahip olabilirler.
- Aşağıdaki ovalardan hangisinin oluşumu yanlış verilmiştir?
- A) Bafra Ovası - Delta
B) Kestel Ovası - Karstik
C) Muğla Ovası - Tektonik
D) Elazığ Ovası - Tektonik
E) Karasu Ovası - Delta

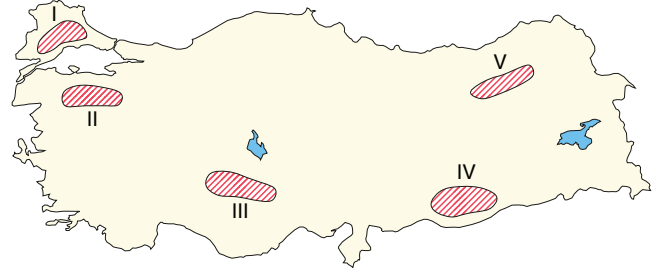
9. Türkiye'nin bazı bölgelerinde volkanik araziler ve volkanik dağlar bulunmaktadır.
- I. Kayseri - Erciyes Dağı
II. Aksaray - Hasan Dağı
III. Diyarbakır - Melendiz Dağı
IV. Erzurum - Süphan Dağı
- Yukarıdaki volkanik dağlardan hangisinin bulunduğu il yanlış eşleştirilmiştir?
- A) I ve II B) I ve III C) II ve III
D) II ve IV E) III ve IV

10. Akdeniz kıyılarında delta ovaları daha azken Ege Denizi kıyılarında delta ovaları daha fazladır.

Ege Denizi kıyılarında delta ovaları gelişiminin Akdeniz kıyılarından daha fazla olmasının nedenleri arasında aşağıdakilerden hangisi gösterilemez?

- A) Dalga ve akıntılarının zayıf olması
B) Kıyı derinliğinin az olması
C) Dağların kıyıya dik uzanması
D) Gelgit genliğinin daha düşük olması
E) Kıyıda koy ve körfez sayısının fazla olması

- 11.



Yukarıdaki haritada taralı olarak gösterilen alanlarda yer alan ovalardan hangisi kapalı havza özelliği gösterir?

- A) I B) II C) III D) IV E) V

12. Kireç taşlarının yaygın olduğu alanlarda, karstik çözümlerle karstik platolar oluşur.
- I. Teke Platosu
II. Taşeli Platosu
III. Erzurum - Kars Platosu
IV. Haymana Platosu
- Yukarıda verilen platolardan hangileri bu şekilde oluşmuştur?
- A) I ve II B) I ve III C) II ve III
D) II ve IV E) III ve IV



1. Anadolu, Üçüncü Jeolojik Zaman boyunca dış kuvvetlerin etkisiyle aşınarak deniz seviyesine yakın bir peneplen hâline gelmiştir. Anadolu Üçüncü Jeolojik Zaman sonları ve Dördüncü Jeolojik Zaman başlarında epirojenez uğramıştır.

Aşağıdakilerden hangisi bu durumun en önemli sonucudur?

- A) Yüksek düzlüklerin oranı artmıştır.
B) Anadolu'nun kuzey ve güneyinde sıradağlar oluşmuştur.
C) Güney Marmara ve Göller Yöresi'nde çok sayıda göl oluşmuştur.
D) Akdeniz kıyılarında karstik araziler oluşmuştur.
E) Doğu Anadolu'da tektonik ovalar artmıştır.

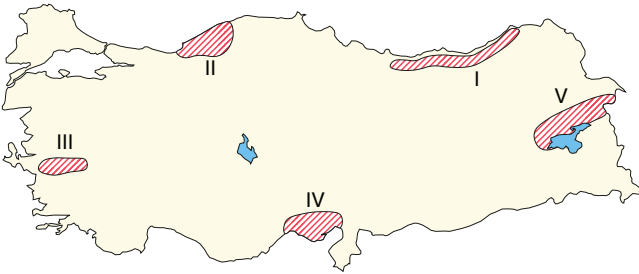
2. **Menteşe ve Hakkâri yörelerinde;**

- I. tarımsal ürün çeşidinin fazla olması
II. eğim ve engebenin fazla olması
III. yayla ve kayak turizminin gelişmiş olması
IV. yağış miktarının fazla olması

özelliklerinden hangileri benzerdir?

- A) I ve II B) I ve III C) II ve III
D) II ve IV E) III ve IV

3. Aşağıdaki haritada beş bölge taranarak gösterilmiştir.



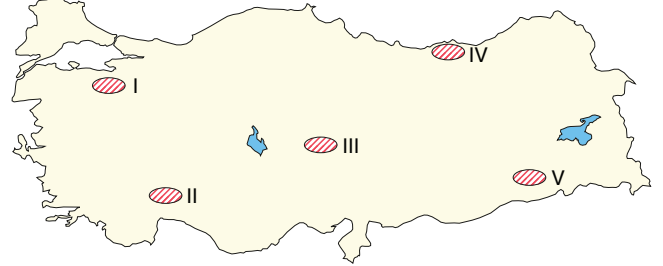
Bu bölgelerin jeolojik özellikleriyle ilgili aşağıdaki bilgilerden hangisi doğru değildir?

- A) I'de Tersiyer dönemde kıvrılarak yükselmiş antiklinal şekilli bir dağ bulunmaktadır.
B) II'de Paleozoyik dönemde karasal ortamlarda oluşan taş kömürü yatakları bulunmaktadır.
C) III'te Kuvaterner dönemde çökme hareketlerine bağlı olarak oluşan graben bulunmaktadır.
D) IV'te Kuvaterner dönemde alüvyon birikmesine bağlı olarak epirojenez çökme olayı yaşanmaktadır.
E) V'te Arabistan Levha'sının sıkıştırmasına bağlı olarak aktif volkanik dağlar bulunmaktadır.

4. **Aşağıdakilerden hangisi Türkiye'nin jeolojik yapısına bağlı olarak ortaya çıkan durumlardan biridir?**

- A) Akdeniz ve Ege kıyılarında makilerin yaygın olması
B) Ege kıyılarında jeotermal enerji potansiyelinin yüksek olması
C) Karadeniz kıyılarında en yağışlı dönemin sonbahar olması
D) Buzulların etki alanının sınırlı olması
E) Akdeniz kıyılarında terra rossa topraklarının bulunması

5. Aşağıdaki haritada beş bölge numaralandırılarak gösterilmiştir.



Verilen alanların hangisinde volkanik araziler yaygın olarak görülür?

- A) I B) II C) III D) IV E) V

E-Coğrafya Yayınları

6. Türkiye'de çok sayıda farklı oluşum özelliğine sahip plato bulunur.

Aşağıdakilerden hangisi Türkiye'de farklı özellikteki platoların oluşması üzerinde etkili olmamıştır?

- A) Dördüncü Jeolojik Zaman başlarında Anadolu'nun epirojenez hareketleriyle yükselmesi
B) Kalker tabakaların karstik süreçlerle şekillenmesi
C) Volkanizma sırasında çıkan lavların çevreye yayılması
D) Çok az eğimli ve kalın tabakaların akarsularla yarılması
E) Buzulların yer şekillerini aşındırıp, sürükleyerek düzleştirilmesi



ÖSYM TIPI



Bu testi 11 - 13 dakikada çözüünüz.

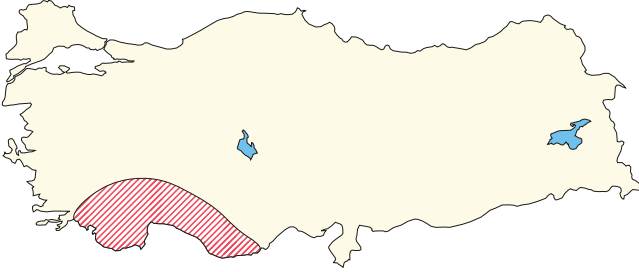
Karabod

7. Türkiye ovalarının oluşumunda, tektonik hareketler, akarsu faaliyetleri ve karstik süreçler rol oynamaktadır. Ovaların oluşumunda bazen bir etken bazen de birden fazla etken rol oynamaktadır.

Aşağıdaki ovalardan hangisinin oluşumunda yalnızca bir etken rol oynamıştır?

- A) Çubuk Ovası B) Erzurum Ovası
C) Amik Ovası D) Bafra Ovası
E) Aydın Ovası

8. Aşağıdaki haritada Türkiye'nin bir yöresi taranarak gösterilmiştir.



Bu yörenin kıyılarında delta ovalarının gelişmemesi aşağıdakilerden hangisiyle açıklanır?

- A) Akarsuların boylarının kısa olmasıyla
B) Arazinin litolojik özellikleriyle
C) Akarsuların rejimlerinin düzensiz olmasıyla
D) Dağların kıyıya paralel uzanmasıyla
E) Kıyı derinliğinin fazla olmasıyla

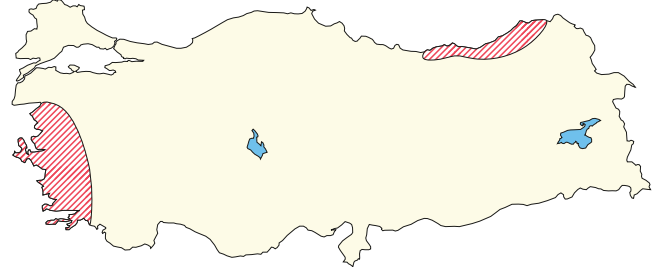
9. Doğu Anadolu ve İç Anadolu'yla ilgili olarak;

- I. Doğu Anadolu'da tarım arazileri daha dardır.
II. İç Anadolu'da yol yapım maliyetleri daha düşüktür.
III. Doğu Anadolu'daki I. derece deprem riski olan yerler daha fazladır.
IV. İç Anadolu'da rüzgâr erozyonu daha fazladır.

özelliklerinden hangilerinin bu bölgelerin daha çok yer şekilleriyle bağlantılı olduğu söylenebilir?

- A) Yalnız I B) Yalnız III C) I ve II
D) II ve III E) III ve IV

10.



Yukarıdaki harita taralı olarak gösterilen alanlarda dağların kıyıya göre uzanışlarının farklı olması,

- I. Körfez ve yarımada sayısı
II. Yıllık yağış miktarı
III. Orman üst sınırı
IV. Eğim ve engebe durumu

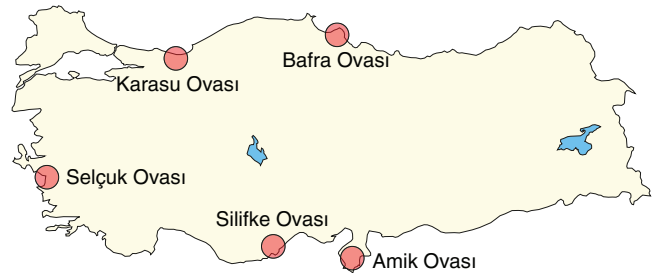
özelliklerinden hangileri bakımından bu alanların farklı olmasında etkilidir?

- A) I ve II B) I ve III C) II ve III
D) II ve IV E) III ve IV

11. Türkiye'nin dağlarıyla ilgili aşağıda verilen bilgilerden hangisi doğru değildir?

- A) Ege Bölgesi'nde kıyıya dik olarak uzanan kırık dağları bulunmaktadır.
B) Türkiye'nin dağları Alp orojenezine bağlı olarak oluşmuştur.
C) Akdeniz kıyılarına paralel olarak uzanan kıvrım dağları bulunur.
D) Doğu Anadolu'da volkanizmaya bağlı olarak oluşan dağlara yaygın olarak rastlanır.
E) Karadeniz Bölgesi'nde Samsun'un güneyinde bölgenin en yüksek zirveleri yer alır.

12.



Yukarıdaki Türkiye haritasında gösterilen ovalardan hangisinin oluşumu diğerlerinden farklıdır?

- A) Bafra Ovası B) Karasu Ovası
C) Amik Ovası D) Selçuk Ovası
E) Silifke Ovası

Çözülen süre:

Doğru:

Yanlış:

Boş:

Net:

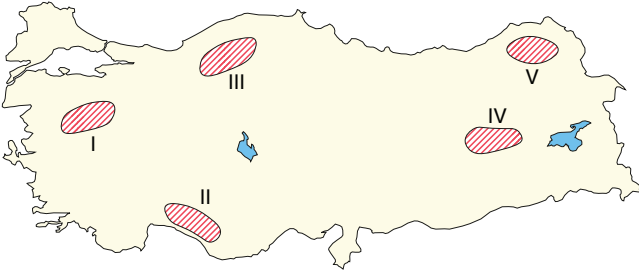


1. Yer kabuğundaki geniş yaylanmalara bağlı olarak alçalıp yükselme olaylarına epirojenez adı verilir.

Türkiye'de aşağıda verilen alanların hangisinde bu olaya bağlı olarak alçalma yaşanmıştır?

- A) Hakkâri Yöresi
B) Erzurum-Kars Platoları
C) Doğu Karadeniz kıyıları
D) Tuz Gölü çevresindeki platolar
E) Ergene Havzası

2. Mağaraların tavan kısımlarının çökmesiyle çöküntü depremleri oluşur.



Haritada gösterilen alanların hangilerinde çöküntü depremi riski daha yüksektir?

- A) I B) II C) III D) IV E) V

3. I. Tersiyer'de etkisini gösteren volkanik olaylara bağlı olarak Doğu Anadolu'da volkanik platolar oluşmuştur.
II. İç Anadolu'da Mesozoyik'te yüzey volkanizmasına bağlı olarak volkanik dağlar oluşmuştur.
III. Adana-Ceyhan'nın doğusu ile Manisa-Kula'da genç volkanik oluşumlara rastlanır.
IV. Van Gölü çevresinde Kuvaterner'de güneybatı-kuzeydoğu yönünde uzanan volkanik dağlar oluşmuştur.

Türkiye'nin volkanik arazileriyle ilgili yukarıdaki bilgilerden hangilerinin doğru olduğu söylenemez?

- A) Yalnız II B) Yalnız III C) I ve II
D) II ve IV E) III ve IV

4. Türkiye, Üçüncü Jeolojik Zaman'da Alp Orojenezi'ne bağlı olarak kıvrılıp yükselmiş oldukça dağlık bir alandır.

Türkiye'de dağların doğu - batı yönünde uzanmasının temel nedeni aşağıdakilerden hangisidir?

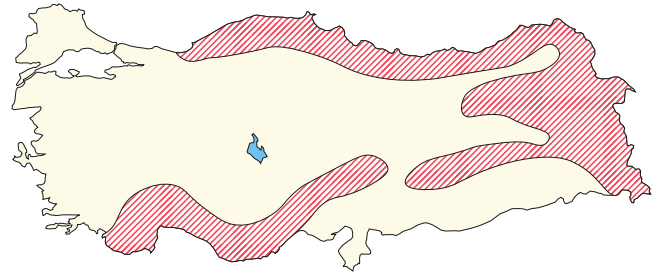
- A) Alp Orojenezi'nin günümüze yakın jeolojik dönemlerde gerçekleşmesi
B) Tetis Jeosenkinali'nde biriken malzemelerin fazla kalın olması
C) Afrika ve Arabistan levhalarının güneyden sıkıştırması
D) Türkiye'nin doğu - batı yönündeki genişliğin fazla olması
E) Günümüze yakın dönemlerde epirojenez uğraması

5. I. Termal turizm gelişmiştir.
II. Topraklar mineral maddeler bakımından zengindir.
III. Aktif volkanlar görülür.
IV. Dış püskürük kayaçlar görülür.

Yukarıdakilerden hangileri Türkiye'de görülen volkanik arazilerin ortak özellikleri arasında gösterilir?

- A) I ve II B) I ve III C) II ve III
D) II ve IV E) III ve IV

6. Aşağıdaki haritada bazı dağlık alanlar taranarak gösterilmiştir.



Buralardaki sıradağlarla ilgili aşağıdaki bilgilerden hangisi yanlıştır?

- A) Horst şeklindeki dağlar yaygındır.
B) Genellikle doğu - batı yönünde uzanırlar.
C) Üçüncü Jeolojik Zaman'da oluşmuşlardır.
D) Birçok alanda yükselti 1.500 metrenin üstündedir.
E) Bazı kesimleri Dördüncü Jeolojik Zaman'da buzullaşmaya uğramıştır.